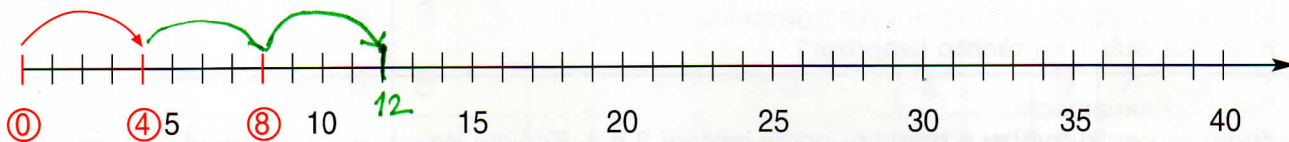


NÁSOBKY ČTYŘ

1. Doplň:

1 . 4	2 . 4	3 . 4	4 . 4	5 . 4	6 . 4	7 . 4	8 . 4	9 . 4	10 . 4
4									

2. Vyznač násobky čísla 4 na číselné ose:




3. Vybarvi násobky čísla 4. Vypiš je na řádek (tam i zpět):


0	1	2	3	4	5	6	7	8	9	10	11	12	13	14	15	16	17	18	19	20
	21	22	23	24	25	26	27	28	29	30	31	32	33	34	35	36	37	38	39	40

4. Znázorni ve čtvercové síti. Hledej všechny příklady na násobení a dělení:

$5 \cdot 4 = \underline{\quad}$



$7 \cdot 4 = \underline{\quad}$



$8 \cdot 4 = \underline{\quad}$

