





1. Rozděluj do skupinek. Zapiš dělení:

po 2  $6 : 2 =$ _____

po 4  _____

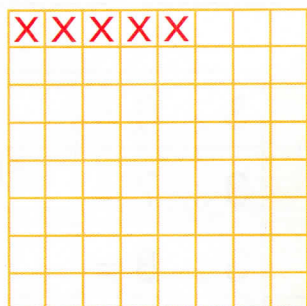
po 1  _____

2. Znázorni dělení po částech:

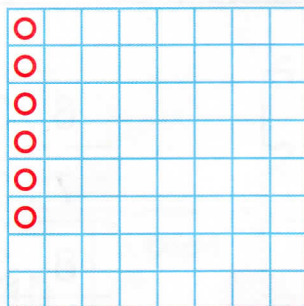
dělenec	dělitel	podíl	
10	: 2 =		
15	: 3 =		
15	: 5 =		
12	: 4 =		
9	: 9 =		

3. Rozděluj podle zadání. Obrázky popiš. Zapiš všechny příklady na násobení a dělení:

20 křížků
do řad po 5



24 kroužků
do sloupců po 6



28 křížků
do sloupců po 4

