



1. Znázorni dělení do čtvercové sítě. (Rozděluj po jednom do 2 řad.)
Zapiš všechny příklady na násobení a dělení.

20 křížků



16 koleček



$20 : 2 =$

$16 : 2 =$

$58 + 9 =$

$92 - 4 =$

$87 - 5 =$

$69 + 5 =$

$40 + 50 =$

$2 + 7 =$

$82 - . = 76$

$45 - . = 38$

$23 - . = 16$

$29 + . = 35$

$42 + . = 50$


$91 - . = 88$

2. a) Sadař vysázel 12 stromů do 2 stejných řad.

Kolik stromů vysadil do každé řady?

Tvořte podobné úlohy podle tabulky:

stromů	12	18	14	10	20	6	2	4
stromů ve 2 řadách								



- b) Pokuste se úlohy obměňovat. Např.:

Sadař vysadil 12 stromů do řad po 6 stromech.

Do kolika řad stromy vysadil?

Sadař vysadil do 2 řad vždy po 6 stromech. Kolik stromů vysadil?

$5 \cdot 2 =$

$10 \cdot 2 =$

$9 \cdot 2 =$

$7 \cdot 2 =$

$2 \cdot 2 =$

$8 \cdot 2 =$

Zkouška počtářské dovednosti:

3. Děda sázel zeleninu. Vysadil 12 salátů a 8 kvěťáků.

Kolik sazenic vysadil celkem?

$18 : 2 =$

4. a) Babička okopávala jahody. Už má hotové 2 řádky po 10 sazenicích. **Kolik sazenic má okopáno?**

$14 : 2 =$

$2 : 2 =$

- b) **Kolik sazenic jí zbývá ještě okopat**, jestliže jich má celkem 60?

$16 : 2 =$

$4 : 2 =$

5. Anička si natrhala 18 petrklíčů a rozdělila je do 2 stejných kytiček. **Kolik petrklíčů dala do každé kytičky?**

6. Diktát:

--	--	--	--	--	--	--	--	--

