

Řešte do sešitu

1. Při tělesné výchově cvičilo 18 dětí. Děvčat bylo stejně jako chlapců.

Kolik cvičilo děvčat? Kolik chlapců?

2. Alenka má své knížky srovnané ve 2 poličkách vždy po 8 knížkách. **Kolik knížek má dohromady v obou poličkách?**

3. Počítej a všímej si. Podtržené příklady znázorni na tabuli:

$$5 \cdot 2 = \underline{\quad}$$

$$8 \cdot 2 = \underline{\quad}$$

$$3 \cdot 2 = \underline{\quad}$$

$$6 : 2 = \underline{\quad}$$

$$10 : 2 = \underline{\quad}$$

$$16 : 2 = \underline{\quad}$$

$$1 \cdot 2 = \underline{\quad}$$

$$2 : 2 = \underline{\quad}$$

$$4 \cdot 2 = \underline{\quad}$$

$$6 \cdot 2 = \underline{\quad}$$

$$7 \cdot 2 = \underline{\quad}$$

$$14 : 2 = \underline{\quad}$$

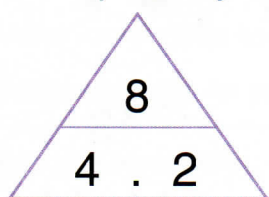
$$8 : 2 = \underline{\quad}$$

$$12 : 2 = \underline{\quad}$$

$$9 \cdot 2 = \underline{\quad}$$

$$18 : 2 = \underline{\quad}$$

4. Pozoruj kouzelný trojúhelník. Lze z něj vyčíst opět 4 příklady. Zapiš které:

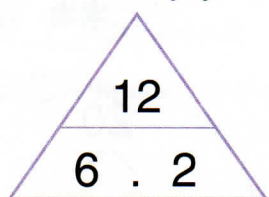


$$4 \cdot 2 = 8$$

$$2 \cdot 4 = 8$$

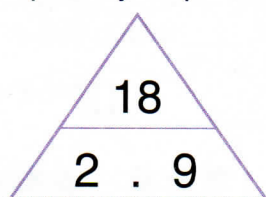
$$8 : 4 = 2$$

$$8 : 2 = 4$$



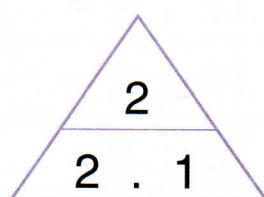
12

$$6 \cdot 2$$



18


$$2 \cdot 9$$



2

$$2 \cdot 1$$

5. Počítejte z paměti:

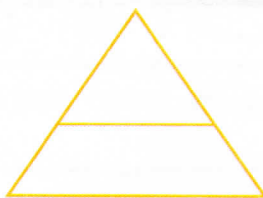


6. Napiš, který násobek čísla 2 zde chybí:

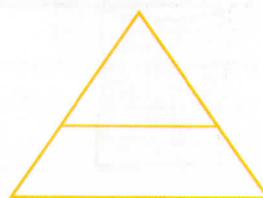
6 4 20 12 10

0 14 8 18 2

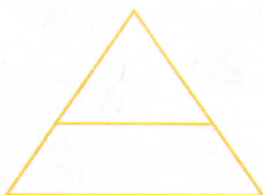
7. Znázorni příklady do kouzelných trojúhelníků. Řekni si zbývající příklady:



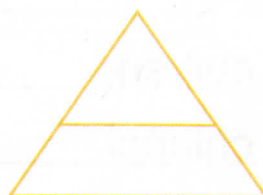
$$5 \cdot 2 = \underline{\quad}$$



$$7 \cdot 2 = \underline{\quad}$$



$$20 : 2 = \underline{\quad}$$



$$16 : 2 = \underline{\quad}$$