


DĚLÍME NA DVĚ STEJNÉ ČÁSTI


1. Maminka rozkrojila koláč na polovinu.
Kolik dostala stejných částí?



Maminka rozdělila koláč na ____ stejné části.

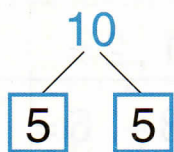
Dělíme-li celek na poloviny, dělíme jej na 2 stejné části.

2. Tatínek koupil 6 banánů. Polovinu dal Evičce a polovinu Honzíkovi.
Kolik banánů každý dostal?

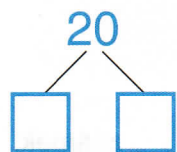


Každý dostal ____ banány.

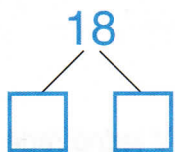
3. Rozděl na poloviny:



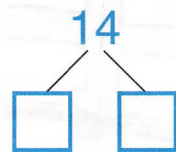
$$(10 : 2 = 5)$$



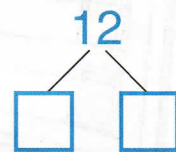
$$(20 : 2 = \underline{\quad})$$



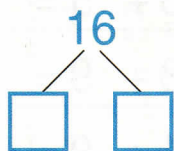
$$(18 : 2 = \underline{\quad})$$



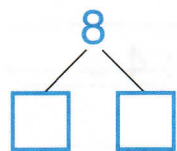
$$(14 : 2 = \underline{\quad})$$



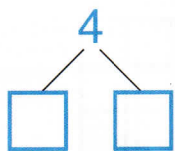
$$(12 : 2 = \underline{\quad})$$



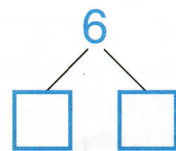
$$(16 : 2 = \underline{\quad})$$



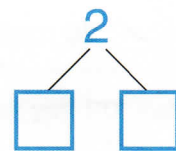
$$(8 : 2 = \underline{\quad})$$



$$(4 : 2 = \underline{\quad})$$



$$(6 : 2 = \underline{\quad})$$



$$(2 : 2 = \underline{\quad})$$

4. Rozděluj na poloviny různé předměty srovnané v jedné řadě. Ubírej vždy po jedné od obou krajů ke středu.

5. Rozděl na poloviny (vybarvuj od krajů ke středu):



$$8 : 2 = \underline{\quad}$$

