

1. Škrtní čísla, která nejsou násobky čísla 2:

0 2 4 5 6 8 10 11 13 12 16 18 20
 12 17 4 6 9 14 10 15 19 18 20 3 0

2. Počítejte pomocí násobení:

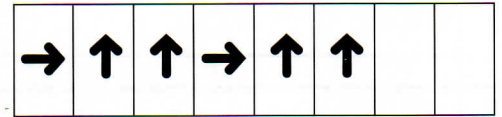
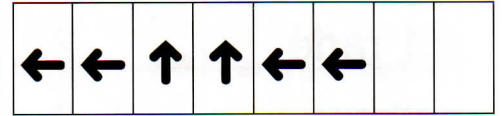
a) V bytě rodiny Králů bydlí celkem 4 osoby.
Kolik mají všichni dohromady nosů?

b) **Kolik mají dohromady uší?**

c) **Kolik uší mají členové tvé rodiny?**

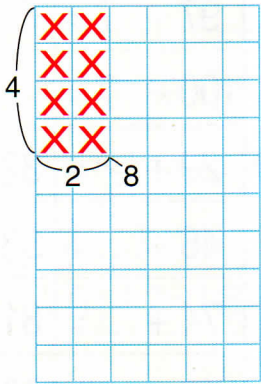
d) **Kolik mají členové tvé rodiny hlav?**

3. Dopiš správné znaky:




4. Znázorni ve čtvercové síti a zapiš oba příklady:

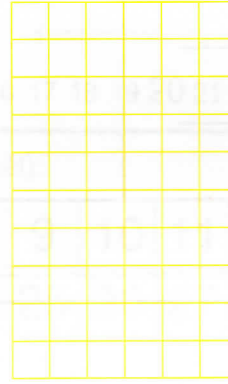
4 po 2




8 po 2



10 po 2



9 po 2



$4 \cdot 2 =$

$2 \cdot 4 =$

5. Vypočítej:

$3 \cdot 2 =$

$5 \cdot 2 =$

$1 \cdot 2 =$

$2 \cdot 3 =$

$2 \cdot 5 =$

$2 \cdot 1 =$

$7 \cdot 2 =$

$9 \cdot 2 =$

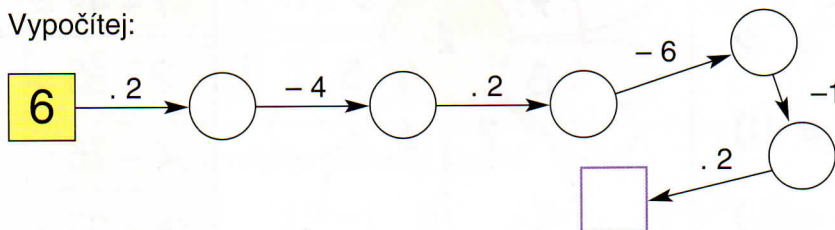
$10 \cdot 2 =$

$2 \cdot 7 =$


$2 \cdot 9 =$

$2 \cdot 10 =$

6. Vypočítej:



7. Zapiš, kolik teček má kostka, jestliže všechny její stěny vypadají stejně:



_____ teček