



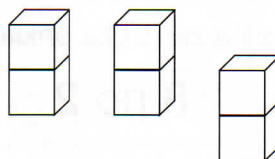
1. Honzík si hrál s autíčky. Po hře si je srovnal do 4 řad vždy po 2. Kolik měl Honzík takto srovnaných autíček?

řady	4
v 1 řadě	2
<u>celkem</u>	?



$4 \cdot 2 =$

2. Klárka stavěla z kostek malé komíny. Zatím má postaveny 3 komíny po 2 kostkách. Kolik kostek na tyto komíny potřebovala?



3. Vypočítej:

$2 \cdot 2 =$ _____

$3 \cdot 2 =$ _____

$10 \cdot 2 =$ _____

$4 \cdot 2 =$ _____

$6 \cdot 2 =$ _____

$2 \cdot 10 =$ _____

$5 \cdot 2 =$ _____

$8 \cdot 2 =$ _____

$5 \cdot 2 =$ _____

$1 \cdot 2 =$ _____

$9 \cdot 2 =$ _____

$2 \cdot 5 =$ _____

4. Doplně:

_____ $\cdot 2 = 12$

$5 \cdot$ _____ $= 10$

_____ $\cdot 2 = 16$

$7 \cdot$ _____ $= 14$

_____ $\cdot 2 = 20$

$1 \cdot$ _____ $= 2$


_____ $\cdot 2 = 2$

$9 \cdot$ _____ $= 18$

_____ $\cdot 2 = 0$

$10 \cdot$ _____ $= 20$

5. Doplně:



⁶ $47 + 5 =$ _____

$51 + 6 =$ _____

$92 - 4 =$ _____

$20 + 64 =$ _____

$82 - 40 =$ _____

$18 + 7 =$ _____

$53 - 7 =$ _____

$64 - 7 =$ _____

$75 - 7 =$ _____

$86 - 7 =$ _____

$97 - 7 =$ _____

$100 - 7 =$ _____

$29 + \cdot = 32$

$46 + \cdot = 53$

$74 + \cdot = 81$

$40 + \cdot = 49$

$57 - \cdot = 48$

$96 - \cdot = 89$

$5 + 58 =$ _____

$6 + 27 =$ _____

$8 + 35 =$ _____

$9 + 52 =$ _____

$7 + 49 =$ _____

$2 + 53 =$ _____

$4 + 76 =$ _____

$5 + 95 =$ _____