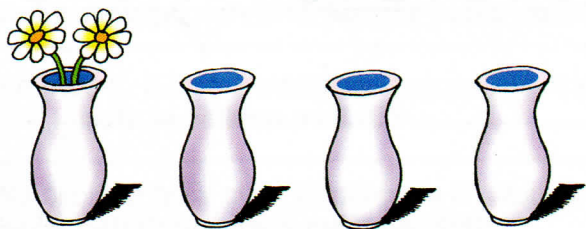


PŘÍPRAVA NÁSOBENÍ

1. Máš 4 vázy. Do každé vázy dej po 2 kytičkách. Kolik kytiček budeš potřebovat?

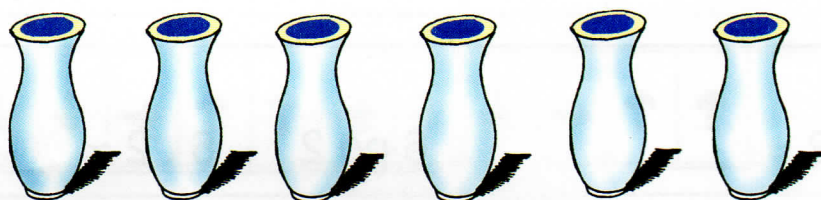


$$\boxed{2} + \boxed{2} + \boxed{2} + \boxed{2} = \boxed{4} \cdot \boxed{2} = \boxed{}$$

4 vázy po 2 kytičkách

$$\boxed{4} \cdot \boxed{2} = \boxed{8}$$

2. Nakresli do každé vázy po 3 kytkách. Kolik jich budeš muset nakreslit? Zapiš:




$$\boxed{} + \boxed{} + \boxed{} + \boxed{} + \boxed{} + \boxed{} = \boxed{} \cdot \boxed{} = \boxed{}$$

6 po 3

$$\boxed{} \cdot \boxed{} = \boxed{}$$

3. Nakresli na každý strom po 5 jablkách. Kolik jich bude dohromady? Zapiš:

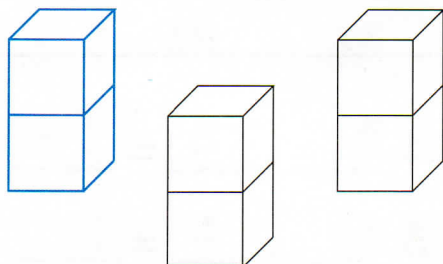


$$\boxed{} + \boxed{} + \boxed{} + \boxed{} = \boxed{} \cdot \boxed{} = \boxed{}$$

4 po 5

$$\boxed{} \cdot \boxed{} = \boxed{}$$

4. Vypočítej pomocí sčítání a pak i násobení, kolik krychlí bylo zapotřebí:



$$\boxed{} + \boxed{} + \boxed{} = \boxed{} \cdot \boxed{} = \boxed{}$$

3 po 2

$$\boxed{} \cdot \boxed{} = \boxed{}$$