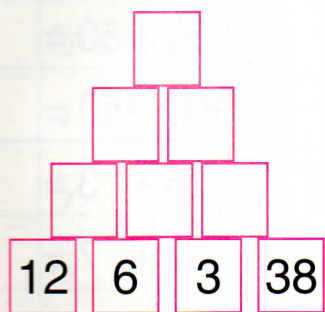


Řešte společně do sešitu. Navrhněte více postupů:

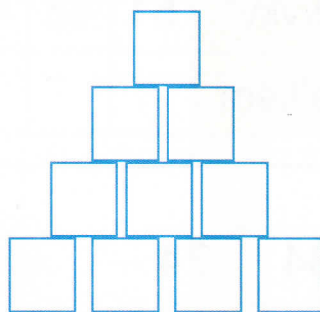
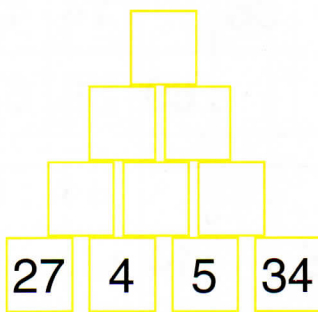
1. Ve školní nářadovně máme 48 míčů na házenou. 9 z nich se však nedá používat, protože jsou prasklé. Na košíkovou je tu 45 míčů, ale 5 z nich je také prasklých.

**Kolik míčů zde máme k použití na oba sporty dohromady?**

2. a) Dopln pyramidy:



b) Navrhni vlastní čísla:



3. Vypočítej:

$52 + \cdot = 59$

$30 + \cdot = 72$

$27 + \cdot = 87$

$45 + \cdot = 61$

$12 + \cdot = 42$

$35 + \cdot = 44$

$92 - \cdot = 87$

$18 + \cdot = 98$

$64 - \cdot = 56$

$36 - \cdot = 27$

$85 - \cdot = 35$

$72 - \cdot = 69$

4. Navrhni postup sčítání tak, aby to bylo výhodné:

(Co budeš počítat nejdříve, si můžeš dát do závorky.)

$32 + 54 + 8 + 6 = (32 + 8) + (54 + 6)$

$16 + 5 + 25 + 4 = \underline{\hspace{10cm}}$

$73 + 11 + 9 + 7 = \underline{\hspace{10cm}}$

$14 + 6 + 2 + 72 = \underline{\hspace{10cm}}$

$76 + 12 + 4 + 8 = \underline{\hspace{10cm}}$

5. Paní učitelka si připravila na vyučování 26 tenisových míčků, 8 míčů na házenou a 4 kruhy. **Kolik míčů si celkem připravila?**

\_\_\_\_\_

6. Při hodině tělesné výchovy cvičilo 23 žáků, z toho 9 bylo chlapců. 4 chlapci z důvodu nemoci necvičili.

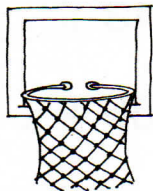

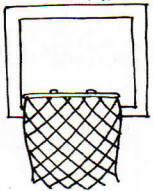

**Kolik chlapců bylo celkem v tělocvičně?**

\_\_\_\_\_

**Kolik cvičilo v tělocvičně děvčat?**

\_\_\_\_\_

7. Hledej stejné obrázky:



$8. 76 + 5 =$

$51 + 7 =$

$63 - 9 =$

$82 - 4 =$

$67 + 5 =$

$91 - 80 =$

$56 - 40 =$

$48 - 30 =$

$88 - 70 =$

$59 - 40 =$

$6 + \cdot = 13$

$3 + \cdot = 12$

$4 + \cdot = 11$

$16 - \cdot = 8$

$13 - \cdot = 9$